

نام و نام خانوادگی:

به نام خدا

تاریخ امتحان:

نام پدر:

وقت امتحان: 70 دقیقه

مدیریت آموزش و پرورش شهرستان آباد

سوالات درس: علوم تجربی

پایه: هفتم

کارشناس سنجش و ارزشیابی تحصیلی

صفحه: 1

شعبه:

کارشناسی آموزش متوسطه اول

دبیرستان هزار آریه دوره اول

ردیف

بارم

کسی که با کتاب آرامش یابد هیچ آرامشی را از دست نداده است. حضرت علی (ع)

-1

صحیح یا غلط بودن جملات زیر را مشخص کنید.

1

الف) سوال کردن و یافتن جواب مهمترین نکته در علم است. ()

ب) دقت اندازه گیری فقط به دقت شخص بستگی دارد. ()

ج) عنصر می تواند اتم یا مولکول باشد. اما ترکیب فقط به صورت مولکول است. ()

د) هرچه مقدار خاک رس بکار رفته در مغز مداد بیشتر باشد، سختی آن کمتر خواهد بود. ()

-2

با توجه به کلمات داخل پرانتز زیر کلمه صحیح خط بکشید.

1

الف) اگر دمای هوا به زیر صفر درجه برسد، بارش به شکل (باران / برف) است.

ب) برای استحکام گل به آن مقداری (آهک / گچ) اضافه می کنند.

ج) در ظرف سفالی رنگی از (اکسید های فلزی / اکسید های غیر فلزی) استفاده می شود.

د) آبهای زیر زمین با سرعت 0/5 متر تا 500 متر در (ماه / سال) حرکت می کنند.

*

گزینه صحیح را انتخاب کنید.

-3

اگر لایه آیدار خود به خود به سطح زمین راه پیدا کند کدام پدیده شکل می گیرد.

الف) چشمه ب) رود ج) قنات د) آبرفت

-4

به بخشی از آب کره که در سطح خشکی قرار دارد، و به طور طبیعی به آبهای آزاد راه ندارد گفته می شود.

الف) دریا ب) یخچال ج) دریاچه د) آبهای زیر زمینی

-5

ماده اولیه تهیه ظروف چینی کدام یک از مواد زیر است.

الف) شن ب) ماسه ج) رس د) سیمان

-6

علت تشکیل دریاچه ارومیه چیست؟

الف) شکستگی قسمتی از سنگ کره ب) باقیمانده دریای تنیس

ج) دهانه آتشفشان د) بالاتر بودن سطح آبهای زیر زمینی از کف غار

1

نمره یا عدد:

نمره با حروف:

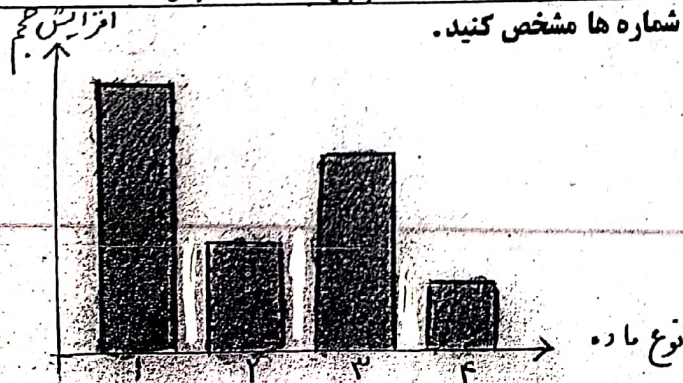
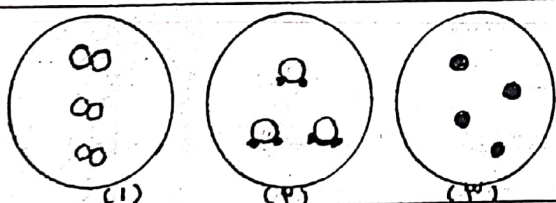
نام و نام خانوادگی دبیر:

امضا و تاریخ

نام خانوادگی:
نام پدر:
سوال:

نام و نام خانوادگی: به نام خدا
نام پدر: مدیریت آموزش و پرورش شهرستان آباد
سوالات درس: علوم تجربی کارشناس سنجش و ارزشیابی تحصیلی
صفحه: 2 کارشناسی آموزش متوسطه اول
تاریخ امتحان: دبیرستان بهار آبریزه دوره اول
وقت امتحان: 70 دقیقه پایه: هفتم
شعبه:

ردیف	سوال	بارم
7	کسی که با کتاب آرامش یابد هیچ آرامشی را از دست نداده است. حضرت علی (ع)	1
8	عبارت درست سمت راست را به سمت چپ متصل کنید. (یک مورد اضافی است)	175
9	در واکنش روبرو: فلز آهن + → + اکسید آهن	175
10	با توجه به شکل های زیر به سوالات پاسخ دهید	0/5
11	با توجه به نمودار رسم شده، مواد زیر را روی شماره ها مشخص کنید.	1

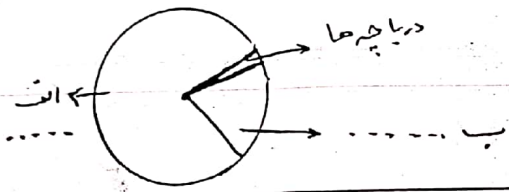


نمره با عدد: نمره با حروف: نام و نام خانوادگی دبیر: امضا و تاریخ

ردیف کسی که با کتاب آرامش یابد هیچ آرامشی را از دست نداده است. حضرت علی (ع)
بارم 12

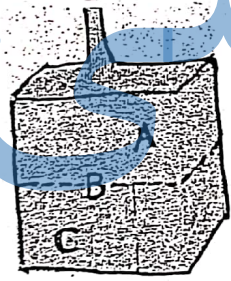
یکی از حرکات دریاها جزر ومد است.
الف) با بالا آمدن آب و حرکت آن به سمت ساحل چه می گویند.
ب) علت به وجود آمدن جزر ومد چیست.
ج) دو مورد استفاده از این پدیده را بیان کنید.

13 نمودار مقابل توزیع آب شیرین در بخش های مختلف آب کره را نشان می دهد، آن را کامل کنید.
0/5



14 برای محافظت از منابع طبیعی سه راه پیشنهاد کنید.
1/75

15 شکل زیر یک آبخوان را نشان می دهد به جای حروف A و B و C کلمات (عمق سطح ایستابی - منطقه اشباع - سطح ایستابی) را قرار دهید.
1/75



16 هر اتم هیدروژن دارای تعدادی ذره است

نام ذره	تعداد ذره
الکترون	۱-
.....	۲- ۱
نوترون	۳-

17 در کدام شکل زوبزو آبشار ایجاد می شود: هر دو
جریان رود ←

الف)

ب)

نمبره یا عدد: شماره یا حروف: نام و نام خانوادگی دبیر: امضا و تاریخ

نام و نام خانوادگی:

به نام خدا

تاریخ امتحان:

نام پدر:

مدیریت آموزش و پرورش شهرستان آباده

سوقت امتحان: 70 دقیقه

سوالات درس: علوم تجربی

کارشناس سنجش و ارزشیابی تحصیلی

پایه: هفتم

صفحه: 4

کارشناسی آموزش متوسطه اول

شعبه:

دبیرستان بهاراندیشه دوره اول

ردیف	سوال	بارم
18	کسی که با کتاب آرامش یابد هیچ آرامشی را از دست نداده است. حضرت علی (ع) کلمات زیر را تعریف کنید. الف) استخوانزاد ب) عنصر ج) تگرگ	1/5
19	* مسائل زیر را با ذکر فرمول و راه حل محاسبه کنید. وزن شخصی 550 نیوتن است جرم این شخص چند کیلو گرم است؟ $g=10 \text{ N/Kg}$	0/5
20	جرم جسمی 30 گرم و حجم آن 15 سانتی متر مکعب است. چگالی این جسم چند گرم بر سانتی متر مکعب است؟	1/5
21	جاهای خالی را پر کنید (1) خاک رس + آهک → گِما (2) آبیاز چدن (3) مزرعه گاز مسان از اتم های و ساخته شده موفق باشید	1
	نمره با عدد: نمره با حروف: نام و نام خانوادگی دبیر: امضا و تاریخ	

جزوه سیپی